

# 関西学院大学

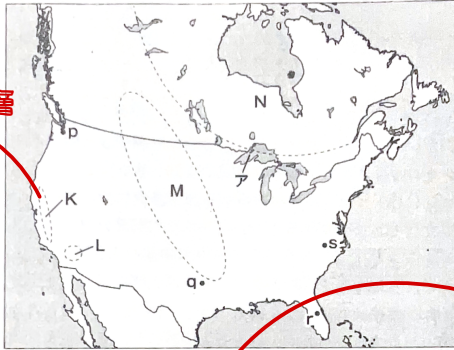
◇教育・経済・国際・社会・商・神・人間福祉・総合政策・文・法◇

— 2月1日実施 —

時間 60分

〔問題〕 全5問

1 北アメリカに関する以下の設問に答え、最も適当な記号を1つ選んでマークしなさい。



サンアンドレアス断層  
→ずれる境界

覚える必要なし

(1) 地図中のK～Nの自然環境に関する説明として誤りを含むものはどれか。

- a. Kには、山脈と山脈の間に形成された地溝盆地がみられる。
- b. Lには、中緯度高圧帯付近に形成された砂漠がみられる。→デスバレー
- ☒ c. Mには、南北に広がる土壌のやせた平原が含まれる。
- d. Nには、世界最大の広さを持つ楕状地が含まれる。

(2) 湖アの西岸域に主要産出地がある鉱産物はどれか。

- a. ウラン
- b. 原油
- c. 石炭
- ☒ d. 鉄鉱石

安定陸塊

グレートプレーンズ  
東部は小麦やとうもろこし  
西部は乾燥、牧畜

(3) 地図中の都市p～sは、それぞれアメリカ合衆国における先端産業の集積地である「エレクトロニクスベルト」「シリコンフォレスト」「シリコンプレーン」「リサーチトライアングル」の中心となる都市である。「リサーチトライアングル」の中心となる都市はどれか。

- a. 都市p
- b. 都市q
- c. 都市r
- ☒ d. 都市s

(4) アメリカ合衆国の農業に関する説明として誤りを含むものはどれか。

Cs

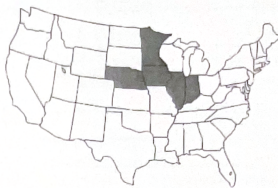
- a. カリフォルニア州では、柑橘類や野菜などの集約的な農業がみられる。
- b. 乾燥地帯では、センターピボット方式による灌漑農業がみられる。
- ☒ c. 穀物メジャーが大土地所有による農作物の生産や輸出を行っている。
- d. とうもろこしなどを原料としたバイオ燃料の生産量は世界第1位である。

植民地時代のもの

- (5) 下の図X・Yは、ある農作物のアメリカ合衆国における生産量上位5州(2020年)をそれぞれ示したものである。X・Yと農作物の組み合わせとして正しいものはどれか。



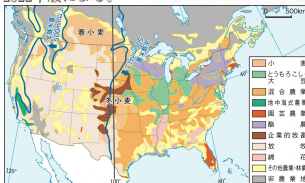
X



Y

『データブック オブ・ザ・ワールド』2022年版による。

	X	Y
a	大豆	小麦
b	大豆	とうもろこし
c	棉花	小麦
d	棉花	とうもろこし



- (6) アメリカ合衆国の都市に関する説明として誤りを含むものはどれか。

- a. 大都市ではジェントリフィケーションの進行による地価の下落がみられる。  
 b. モータリゼーションに伴い中心市街地の衰退が進んだ都市がある。  
 c. ニューヨークやロサンゼルスでは民族集団による住み分けがみられる。  
 d. ボストンからワシントンD.C.に至る人口集中地域をメガロポリスという。

再開発に伴う富裕層の流入

- (7) アメリカ合衆国の都市に本部を置く国際機関として正しいものはどれか。

- a. 国際通貨基金    b. 国連教育科学文化機関    c. 国連大学    d. 世界保健機関

知らねえ

- (8) カナダに関する説明として誤りを含むものはどれか。

- a. アメリカ合衆国との国境近くに人口と都市が集中している。  
 b. 国土の西部ではオイルサンドの開発が進められている。  
 c. アメリカ合衆国への輸出額は輸出総額の半分以上を占める。  
 d. 日本への輸出品目のうち輸出額の第1位は木材である。

トロント

意地悪問題

- 2 南アジアに関する以下の設問に答え、最も適当な記号を1つ選んでマークしなさい。

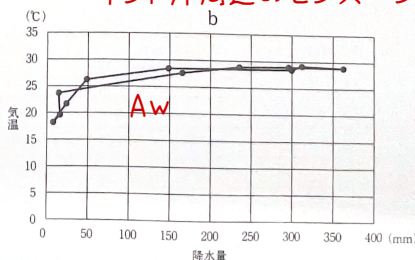
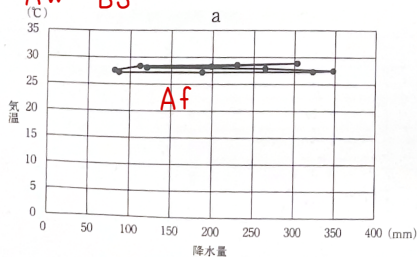
- (1) 自然環境に関する説明として誤りを含むものはどれか。  
 a. インダス川流域にはラムサール条約登録地がみられる。  
 b. デカン高原は標高1500m前後の溶岩台地である。  
 c. ヒマラヤ山脈はプレートの狭まる境界に該当する。  
 d. ヒンドスタン平原はガンジス川流域に広がっている。

意地悪問題

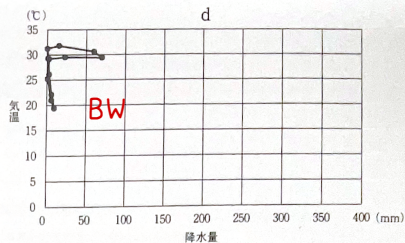
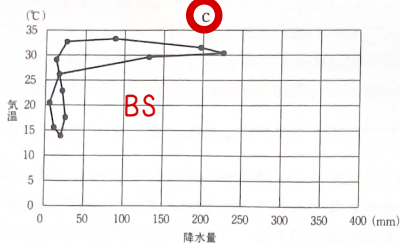
- (2) 下の図は、4つの都市の月平均気温と月降水量を示したものである。a～dは、カラチ、コロンボ、ダッカ、デリーのいずれかに対応している。デリーはどれか。

BW Af

インド洋周辺のモンスーンは頻出







『理科年表』2022年版による。

(3) ネパールとブータンに関する説明として誤りを含むものはどれか。

- a. 両国ともインドと国境を接する。  
 b. 両国とも政体は共和制である。  
 c. ネパールの人口は2千万人を超えている。  
 d. ブータンの人口は100万人に満たない。

(4) モルディブに関する説明として誤りを含むものはどれか。

- a. インド洋上のサンゴ礁の島々からなる国である。  
 b. 国土は南北に長く、首都は最北端の島嶼に位置する。  
 c. 南西モンスーンの時期に降水量が多くなる。  
 d. 海面上昇により国土の大半が失われるおそれがある。

(5) 下の表は、4か国における主な宗教を上位2つまで示したものである。表中のX～Zは、イスラム教、ヒンドゥー教、仏教のいずれかに対応している。X～Zの組み合わせとして正しいものは右のうちのどれか。

	X	Y	Z
a	イスラム教	ヒンドゥー教	仏教
b	イスラム教	仏教	ヒンドゥー教
c	ヒンドゥー教	イスラム教	仏教
d	ヒンドゥー教	仏教	イスラム教
e	仏教	イスラム教	ヒンドゥー教
f	仏教	ヒンドゥー教	イスラム教

	スリランカ	ネパール	バングラデシュ	ブータン
1位	X	Y	Z	チベット仏教
2位	Y	X	Y	Y

『データブック オブ・ザ・ワールド』2022年版による。

(6) インドの農業に関する説明として誤りを含むものはどれか。

消去法

- a. 牛乳の生産・消費の増加がみられ、「白い革命」とよばれている。  
 b. 小麦・米・とうもろこしの中では小麦の生産量が最も多い。  
 c. 国内需要の高まりを背景として鶏肉の国内生産は増加している。  
 d. バナナの生産量は世界第1位であり、大半は国内で消費されている。

(7) 下の表は、4か国の国際人口移動の行き先国を上位5位まで示したものである(2020年)。表中のa～dは、アメリカ合衆国、アラブ首長国連邦、クウェート、マレーシアのいずれかに対応している。アラブ首長国連邦はどれか。a

	インド	ネパール	パキスタン	バングラデシュ
1位	a	インド	サウジアラビア	インド
2位	b	c	a	サウジアラビア
3位	サウジアラビア	サウジアラビア	インド	a
4位	パキスタン	カタール	イギリス	c
5位	オマーン	b	b	d

アラブは女性  
性が仕事に  
就けないの  
で労働力  
が不足  
→サウジ  
UAE

b→米国 c→クウェート?

International Migrant Stock 2020による。

(8) 日本とインドの関係に関する説明として誤りを含むものはどれか。

●米(もみ)の生産(万t)			●小麦の生産(万t)		
国名	2019	2019	国名	2019	2019
米	75,547	米	76,577		
インド	17,765	インド	10,350		
パキスタン	5,469	パキスタン	7,455		
バングラデシュ	4,346	バングラデシュ	5,226		
FAOSTAT		FAOSTAT			
●米の輸出(万t)			●小麦の輸出(万t)		
国名	2019	2019	国名	2019	2019
米	4,236	米	17,952		
インド	973	インド	3,187		
パキスタン	685	パキスタン	2,767		
バングラデシュ	545	バングラデシュ	2,281		
FAOSTAT		FAOSTAT			

- a. 両国間の貿易関係は、日本からみて貿易黒字である。  
b. 日本のダイヤモンド輸入先の第1位はインドである。  
c. 日系企業の乗用車がインドの乗用車市場において大きなシェアを占めている。

**d** RCEP(地域的な包括的経済連携)協定はインドが主導し日本も参加している。

ASEAN+日中韓+豪NZ

**3** 以下の設問に答え、最も適当な記号を1つ選んでマークしなさい。

(1) 農業に関する説明として誤りを含むものはどれか。 **酸性土壌をアルカリ性に**

- a. 焼畑農業では木や草を焼き払ってできた草木灰を肥料とする。  
**b** 中世三圃式農業では、冬作物・夏作物・牧草を3年周期で耕作する。 **牧畜**  
c. 高山地域の遊牧では山と谷の間の垂直移動がみられる。  
d. オアシスの一部では灌漑を利用した集約的農業がみられる。

(2) 世界の農業に関する説明として誤りを含むものはどれか。

- a. ウクライナからロシアにかけての黒土地帯では企業の穀物農業がみられる。  
**b** 東南アジアでは遺伝子組み換え作物の導入によって緑の革命が進められた。  
c. 南半球の農業には北半球における端境期に輸出できるという利点がある。  
d. 高価な花がオランダやケニアのような遠隔地から日本に空輸されている。

(3) 下の表は、4か国における農作物自給率(2018年)を示したものである。表中のa~dは、オーストラリア、カナダ、ブラジル、ロシアのいずれかに対応している。ロシアはどれか。 **消去法**

	小麦	米	とうもろこし	いも類	大豆	肉類
a	406	0	98	154	274	136
b	240	140	101	91	54	164
<b>c</b>	223	88	177	88	78	96
d	43	96	128	99	248	134

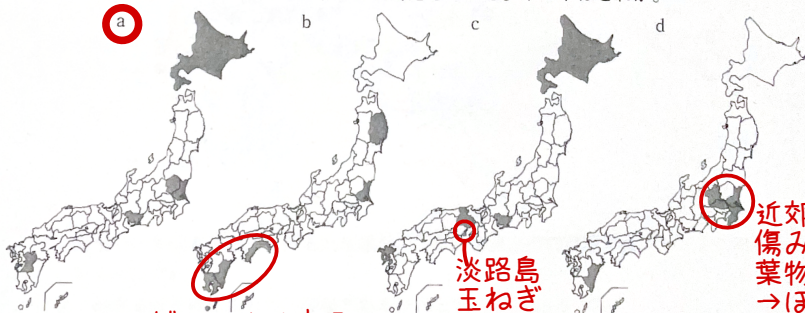
人口が  
少ない  
と自給  
率は高  
くなる

カナダ  
豪州

ブラジル

単位：％。『世界国勢図会』2021/22年版による。

(4) 下の図は、4つの農作物の収穫量上位5道県(2020年)を示したものである。図a~dは、たまねぎ、トマト、ピーマン、ほうれんそうのいずれかに対応している。トマトはどれか。



**ビニールハウス**

淡路島  
玉ねぎ

近郊農業  
傷みやすい  
葉物  
→ほうれん草

『令和2年産野菜生産出荷統計』による。

(5) 右の表は、日本における4種類の果実の輸入量と輸入額を示したものである。表中のa~dは、オレンジ、キウイフルーツ、パイナップル、バナナ(生鮮)のいずれかに対応している。キウイフルーツはどれか。

	輸入量(千t)			輸入額(百万円)
	2000年	2010年	2021年	2021年
a	1,079	1,109	1,109	107,551
b	136	110	81	13,373
c	100	143	181	16,687
<b>d</b>	42	63	118	50,377

オレンジ

『日本国勢図会』2022/23年版による。

輸入量の割に額が安い  
→単価の安い果実



(6) 家畜に関する説明として誤りを含むものはどれか。

a. ジャージー種やホルスタイン種は代表的な乳用牛である。

**(b)** 豚は乾燥に強い~~ため~~北アフリカや中央アジアにおいて多数飼育されている。**羊**

c. 羊にはメリノ種のような毛用種とコリデール種のような毛肉兼用種がある。

d. 南アメリカではリャマとアルパカが荷役用のほか毛用や食用で飼育される。

(7) 世界の林業に関する説明として誤りを含むものはどれか。

a. 用材としての木材生産は、亜寒帯林を中心としつつ熱帯林で

**用材→パルプや建材  
薪炭材→煮炊き用**

b. 亜寒帯林には針葉樹が多く、特に軟木は建築用材やハルブ用材などに使われる。

**(c)** 中国は丸太、製材のいずれについても世界第1位の輸出国である。

d. 現在では丸太の輸出を規制し、森林資源の保全をはかる国がある。

(8) 下の表は、4 か国における漁獲量および養殖業生産量、水産物輸出高を示したものである(いずれも2019年)。表中のa～dは、インド、日本、ノルウェー、ベトナムのいずれかに対応している。日本はどれか。

	漁獲量(千t)		養殖業生産量(千t)		輸出高 (百万ドル)
	海面	内水面	海面	内水面	
a	3,690	1,787	903	6,897	6,857
b	3,285	144	1,472	2,984	8,695
c	3,209	22	912	32	2,294
d	2,472	0.3	1,453	0.2	12,023

ベトナム

インドor日本

ノルウェー

【世界国勢図会】2021/22年版、【日本国勢図会】2022/23年版による。

**4** 以下の設問に答え、最も適当な記号を1つ選んでマークしなさい。



まず赤道を引く

(1) 地図中の矢印A, B, Cは海流を示している。海流とその説明文X, Y, Zの組み合わせとして正しいものはどれか。

X 沿岸地域が緯度のわりに温暖である一因となっている。

Y プランクトンを多く含み、暖流との境界は好漁場となっている。

**超簡単**

Z 沿岸地域に砂漠が形成される一因となっている。

	海流A	海流B	海流C
a	X	Y	Z
<b>(b)</b>	X	Z	Y
c	Y	X	Z
d	Y	Z	X
e	Z	X	Y
f	Z	Y	X

- (2) 世界の気候と人々の生活に関する説明として誤りを含むものはどれか。
- a. サバナ気候区に含まれる地図中のオ国の高原には肥沃な土壌が広がり、商品作物の栽培がみられる。 **デカン高原 綿花栽培**
  - b.** ステップ気候区に含まれる地図中のカ国では、遊牧民の移動式テントをヤオトンという。 **ゲル**
  - c. ヨーロッパの地中海性気候区では、冬の降水を利用した冬小麦の栽培がさかんである。
  - d. 冬でも温暖なフロリダ半島は、同じ国内の寒冷な地域に住む人々の避寒地となっている。
- (3) 世界の食文化に関する説明として誤りを含むものはどれか。
- a. イタリアでは、小麦粉を用いてさまざまなかたちに加工したパスタが食される。
  - b. インドでは、小麦粉でつくった生地をうすくのばして焼いたチャパティが食される。
  - c. ケニアでは、とうもろこしなど穀物の粉をこねて蒸し焼きにしたウガリが食される。
  - d.** ベトナムでは、タロイもや芋いもを粉状にしてめんにしたフォーが食される。
- (4) 世界の衣食住に関する説明として誤りを含むものはどれか。
- a. 日本では観光を楽しむために伝統的な衣服を貸し出すサービスがみられる。
  - b. 地中海の伝統的な食事はユネスコの無形文化遺産に登録されている。
  - c. 地図中のケ国のファストフードのチェーンが世界各地に進出している。
  - d.** 朝鮮半島の伝統的な民家ではカンとよばれる床暖房が発達している。 **オンドル**
- (5) 地図中のイ国、オ国、キ国でもおに信仰されている宗教の組み合わせとして正しいものはどれか。

主にアフリカ  
ナイジェリアが  
世界第1位

北アフリカ  
→イスラム教一色

	イ国	オ国	キ国
a	イスラム教●	キリスト教	ヒンドゥー教
<b>b</b>	イスラム教●	ヒンドゥー教●	キリスト教●
c	キリスト教	イスラム教	ヒンドゥー教
d	キリスト教	ヒンドゥー教●	イスラム教
e	ヒンドゥー教	イスラム教	キリスト教●
f	ヒンドゥー教	キリスト教	イスラム教

- (6) 宗教と食文化に関する説明として誤りを含むものはどれか。
- a. イスラム教では酒を飲むことが禁じられている。
  - b. キリスト教では金曜日に肉を食べない習慣があった。
  - c.** ヒンドゥー教では豚肉を食べることが禁じられている。
  - d. ユダヤ教の戒律にしたがえばチーズバーガーは食べられない。
- (7) 公用語に関する説明として誤りを含むものはどれか。
- a. シンガポールでは、中国語を国の公用語のひとつとしている。
  - b. スイスでは、イタリア語を国の公用語のひとつとしている。
  - c. 地図中のク国では、先住民の言語を国の公用語のひとつとしている。
  - d.** 地図中のケ国では、スペイン語を国の公用語のひとつとしている。
- (8) 地図中のア国、ウ国、エ国とそれらの国をかつて植民地支配していた国の組み合わせとして正しいものはどれか。

牛は神の乗り物

特にロサンゼルスでヒス  
パニックが急増している  
が、公用語ではない。

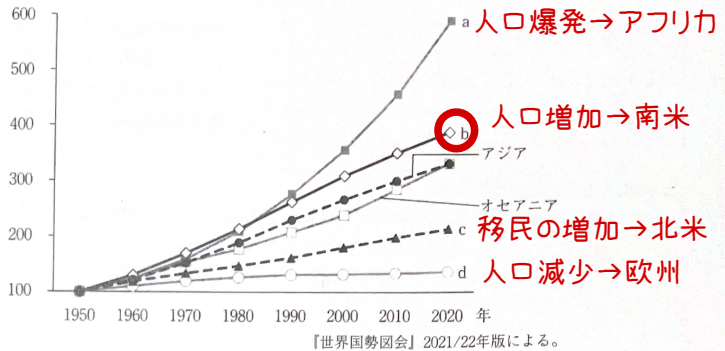
	ア国	ウ国	エ国
a	イタリア	フランス	ポルトガル●
b	イタリア	ポルトガル	フランス
<b>c</b>	フランス	イタリア●	ポルトガル●
d	フランス	ポルトガル	イタリア
e	ポルトガル	イタリア●	フランス
f	ポルトガル	フランス	イタリア

西アフリカはフランス  
が多い  
cf. パリダカールラー

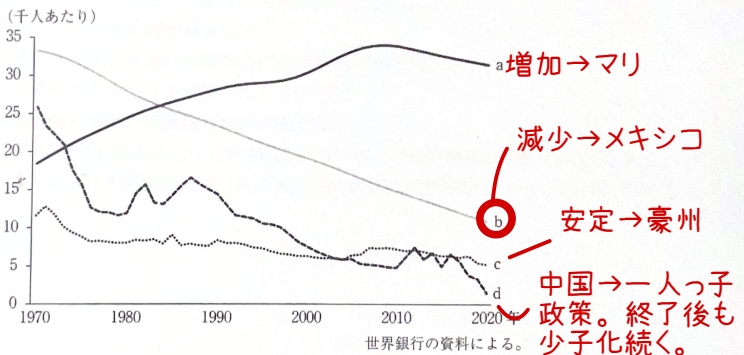
- 5** 以下の設問に答え、最も適当な記号を1つ選んでマークしなさい。



- (1) 下の図は、1950年を100とした場合の6大州の人口の推移(1950～2020年)を示したものである。図中のa～dは、アフリカ、ヨーロッパ、北アメリカ、ラテンアメリカのいずれかに対応している。ラテンアメリカはどれか。

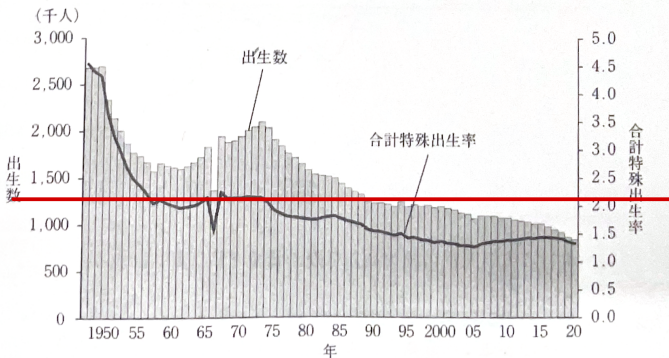


- (2) 下の図は、4か国の人口の自然増加率の推移(1970～2020年、人口千人あたり)を示したものである。自然増加率は出生率から死亡率を引いたものである。図中のa～dは、オーストラリア、中国、マリ、メキシコのいずれかに対応している。メキシコはどれか。



先進国もしくは、  
経済の発展にとも  
なって、子供  
を労働力をしな  
いので、出生率は  
減少する。

- (3) 下の図は、日本の出生数および合計特殊出生率の推移(1947年～2020年)を示したものである。この図から読み取れる説明として正しいものはどれか。



人口動態調査による。

人口が増減しない→2.]

a. 1980年代まで、合計特殊出生率は人口置換水準を上回っていた。

b. 1990年代以降の出生数は、一時的に出生数が減少した「丙午」の年を下回っている。

c. 2000年代後半以降、合計特殊出生率は上昇に転じ、出生数も増加傾向にある。

d. 2020年の出生数は第2次ベビーブーム期の3分の1以下である。ちよい微妙

(4) 右の表は、4か国の65歳以上人口割合の推移を示したものである。表中のa～dは、アメリカ合衆国、韓国、スウェーデン、ポルトガルのいずれかに対応している。スウェーデンはどれか。

医療が充実している先進国ほど高齢者が多い

	1980年	2000年	2020年
a	4.1	7.2	15.8
b	11.5	16.3	22.8
c	11.6	12.3	16.6
d	16.3	17.3	20.3

単位：％。『世界国勢図会』2021/22年版による。

(5) 下の表は、4か国における流入外国人口の上位4か国(2019年)を示したものである。表中のa～

dは、インド、中国、ポーランド、ルーマニアのいずれかに対応している。インドはどれか。a

インド  
中国

	イギリス	オーストラリア	オランダ	韓国
1位	a	a	b	c
2位	c	c	a	ベトナム
3位	d	ニュージーランド	d	タイ
4位	イタリア	イギリス	ドイツ	ウズベキスタン

ポーランド  
ルーマニア

中国?

International Migration Outlook 2021による。

(6) 日本の在留外国人・難民に関する説明として誤りを含むものはどれか。

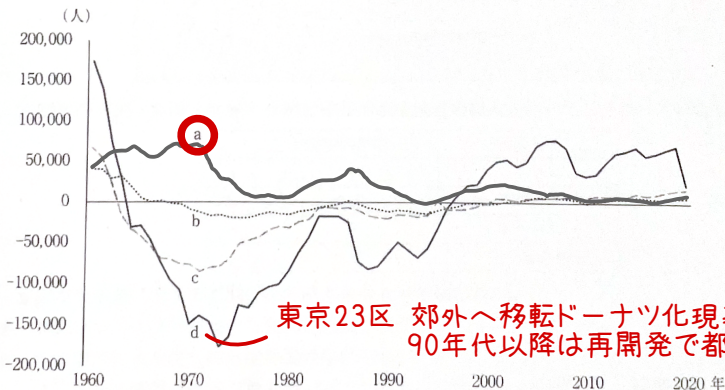
a. 在留外国人数を国籍別にみると中国籍が最も多い。

b. ブラジル籍の人々は第二次世界大戦前の日本への移住者の子孫が多い。ひっかけ問題  
c.f.アントニオ猪木

c. 技能実習生として来日するベトナム人が増加している。

d. 難民として認められる外国人は難民申請数の10%に満たない。

(7) 下の図は、4都市の転入超過人口(転入人口から転出人口を引いたもの)の推移(1960～2020年)を示したものである。図中のa～dは、東京都特別区、横浜市、名古屋市、大阪市のいずれかに対応している。横浜市はどれか。



東京23区 郊外へ移転ドーナツ化現象  
90年代以降は再開発で都心回帰

住民基本台帳人口移動報告による。

(8) 日本の都市地域における人口変動に関する文章の空欄X・Yに当てはまる語句の組み合わせとして正しいものはどれか。

郊外化が進行した時期には、は業務機能が卓越する都市中心部で高く、ベッドタウン的性格の強い郊外部で低かった。その後、都市中心部では再開発が進み、高層マンションなどの建設によって住宅供給量が増加しており、人口の都心回帰がみられる。したがって、都市中心部のは



Y 傾向にある。

	X	Y
a	人口増加率	上昇
b	人口増加率	低下
c	昼夜間人口比率	上昇
d	昼夜間人口比率	低下

\* 関西学院大 \*

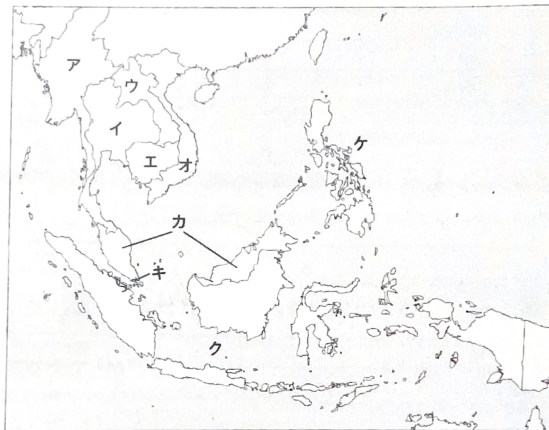
◇教育・経済・国際・社会・商・神・人間福祉・総合政策・文・法◇

— 2月2日実施 —

[時間] 60分

[問題] 全5問

- 1 東南アジアに関する以下の設問に答え、最も適当な記号を1つ選んでマークしなさい。なお、地図中のア～ケは国を示している。



- (1) 地図中のア国・カ国・ク国・ケ国とその旧宗主国との組み合わせとして誤っているものはどれか。

	図中の国家	旧宗主国
a	ア国	フランス
b	カ国	イギリス
c	ク国	オランダ
d	ケ国	アメリカ合衆国

イギリス

- (2) 地図中のイ国に関する説明として誤りを含むものはどれか。

- a. 首都はチャオプラヤ川の三角州に位置する。  
b. 欧米諸国による植民地支配を受けなかった。  
c. すず鉱の生産量が世界で最も多い。  
d. アンダマン海沿岸に海浜リゾートがある。

いまだにタイ王国

銀や銅、ニッケル、すずなどは  
鉄が熱で変化→新期造山帯

- (3) 地図中のエ国に関する説明として誤りを含むものはどれか。

- a. 首都はメコン川の河口に位置する。  
b. 立憲君主国であり、仏教が信仰されている。  
c. 東南アジア諸国連合(ASEAN)の加盟国である。  
d. 内戦終結後、国連平和維持活動(PKO)が行われた。

11カ国全て加盟(東ティモールは手続き中)

- (4) 地図中のオ国に関する説明として誤りを含むものはどれか。
- 南シナ海の島々の領有を巡って中国と対立している。
  - 首都は国内で最大の人口を有する都市である。
  - ドイモイとよばれる市場開放政策がとられている。
  - 都市ではフランスパンの屋台での販売がみられる。
- (5) 地図中のカ国に関する説明として誤りを含むものはどれか。
- プランテーション生産の中心は天然ゴムから油やしに転換しつつある。
  - 日本や韓国などの経済発展をモデルに工業化が進められた。
  - ブミブトラ政策とよばれるマレー人優遇策がとられている。
  - 東南アジア諸国連合(ASEAN)の本部がおかれている。
- (6) 下の表は、地図中の4か国の人口、合計特殊出生率、1人あたりGNIを示したものであり、表中のa～dは、イ国、カ国、ク国、ケ国のいずれかに対応している。イ国はどれか。

首都はハノイ  
人口はホーチミン

かつてはフランス領インドシナ

つまらない問題

ジャカルタ

インドネシア

フィリピン

	人口(千人)	合計特殊出生率	1人あたりGNI(ドル)
a	273,524	2.3	4,012
b	109,581	2.5	3,985
c	69,800	1.5	7,407
d	32,366	2.0	11,110

マレーシア

年次は、人口が2020年、その他が2019年。  
『世界国勢図会』2021/22年版による。

- (7) 下の表は、4つの農産物の東南アジアにおける生産量上位3か国を示したものであり、表中のa～dは、コーヒー豆、米、パーム油、パインナップル。

	a	b	c	d
第1位	オ国	ク国	ク国	ケ国
第2位	ク国	オ国	カ国	ク国
第3位	ウ国	イ国	イ国	イ国

年次は、パーム油が2018年、その他が2019年。  
『世界国勢図会』2021/22年版による。

- (8) 下の表は、地図中の4か国と日本との貿易における上位5品目(2020年)を示したものであり、表中のa～dは、イ国、オ国、キ国、ク国のいずれかに対応している。キ国はどれか。

エビの養殖

	a		b		c		d	
	輸出	輸入	輸出	輸入	輸出	輸入	輸出	輸入
第1位	機械類	機械類	機械類	機械類	機械類	機械類	機械類	機械類
第2位	鉄鋼	石炭	金(非貨幣用)	医薬品	鉄鋼	衣類	鉄鋼	肉類
第3位	自動車部品	液化天然ガス	船舶	科学光学機器	プラスチック	はきもの	自動車部品	自動車
第4位	プラスチック	衣類	石油製品	有機化合物	鉄鋼くず	魚介類	プラスチック	科学光学機器
第5位	自動車	銅鉱	化粧品	プラスチック	科学光学機器	家具	銅・同合金	魚介類

表中の「輸出」は日本からの輸出を、「輸入」は日本への輸入を示す。  
『日本国勢図会』2022/23年版による。

インドネシアは石炭生産量世界第3位  
天然ガス→新期造山帯

先進国→シンガポール

タイホンダ